

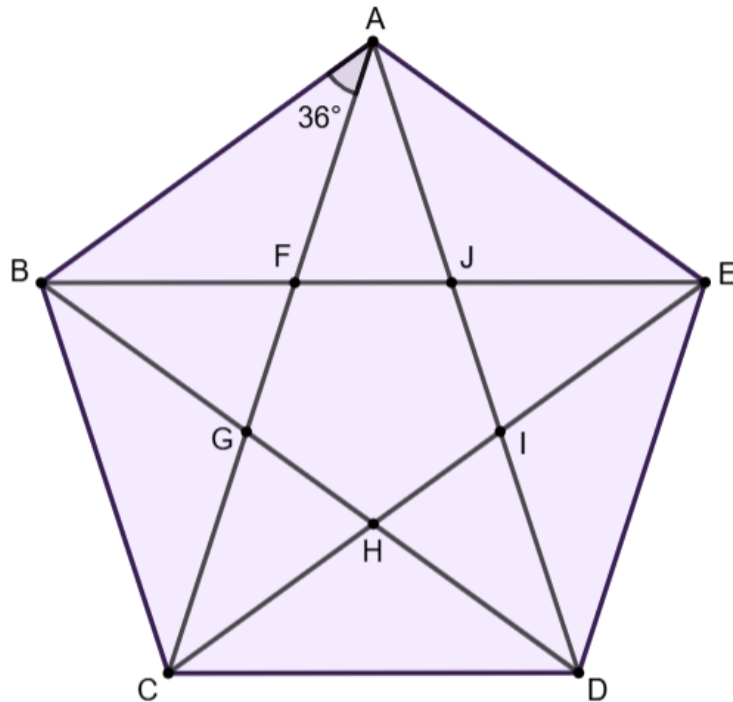
Namen:

Vraag 7 – HOEKEN

Bereken de gevraagde hoeken in de regelmatige vijfhoek (de zijden zijn even lang).

..... / 6

Noteer je berekening en de gebruikte eigenschap.



$|\hat{ACE}| =$

Eigenschap:

.....

$|\hat{CED}| =$

Eigenschap:

.....

$|\hat{BC}| =$

Eigenschap:

.....

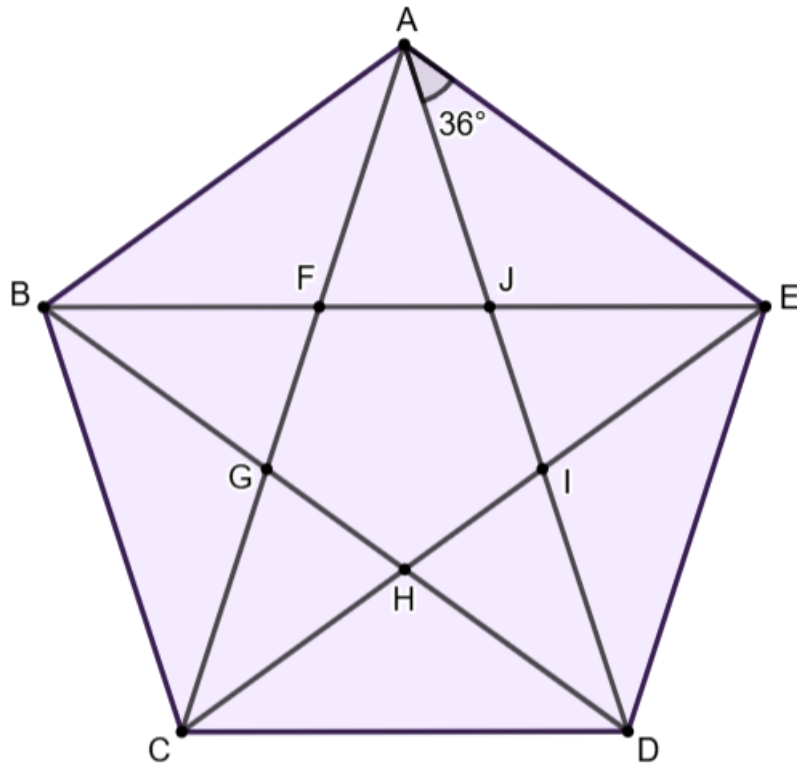
Namen:

Vraag 7 – HOEKEN

Bereken de gevraagde hoeken in de regelmatige vijfhoek (de zijden zijn even lang).

..... / 6

Noteer je berekening en de gebruikte eigenschap.



$|\hat{ADB}| =$

Eigenschap:

$|\hat{CDB}| =$

Eigenschap:

$|\hat{AED}| =$

Eigenschap:

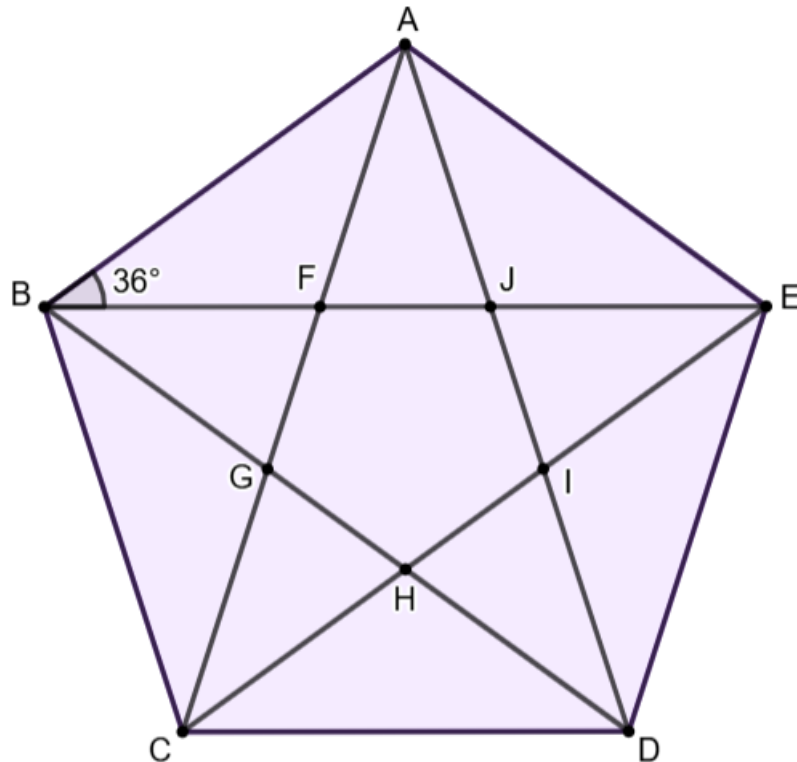
Namen:

Vraag 7 – HOEKEN

Bereken de gevraagde hoeken in de regelmatige vijfhoek (de zijden zijn even lang).

..... / 6

Noteer je berekening en de gebruikte eigenschap.



$|\hat{BEC}| =$

Eigenschap:

.....

$|\hat{DCE}| =$

Eigenschap:

.....

$|\hat{BAE}| =$

Eigenschap:

.....

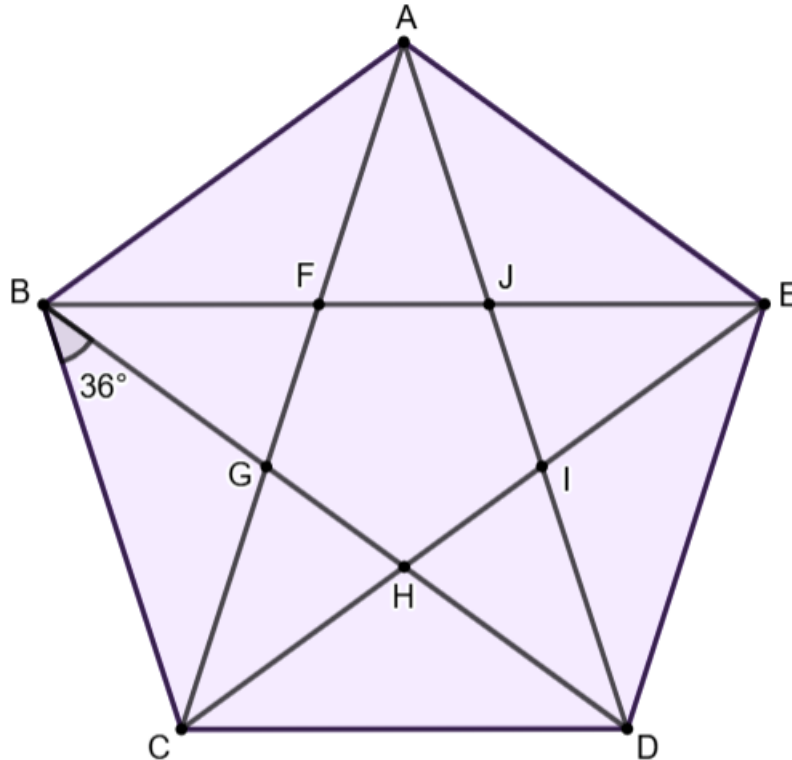
Namen:

Vraag 7 – HOEKEN

Bereken de gevraagde hoeken in de regelmatige vijfhoek (de zijden zijn even lang).

..... / 6

Noteer je berekening en de gebruikte eigenschap.



$|\widehat{ADB}| =$

Eigenschap:
.....

$|\widehat{DAE}| =$

Eigenschap:
.....

$|\widehat{BCD}| =$

Eigenschap:
.....

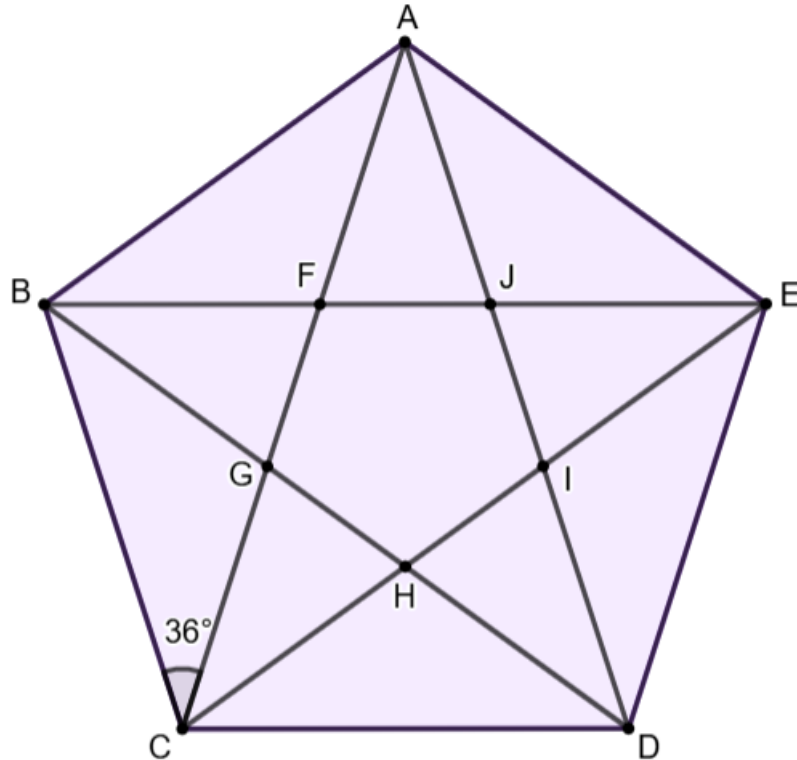
Namen:

Vraag 7 – HOEKEN

Bereken de gevraagde hoeken in de regelmatige vijfhoek (de zijden zijn even lang).

..... / 6

Noteer je berekening en de gebruikte eigenschap.



$|\widehat{CAD}| =$

Eigenschap:

$|\widehat{ADE}| =$

Eigenschap:

$|\widehat{ABC}| =$

Eigenschap:

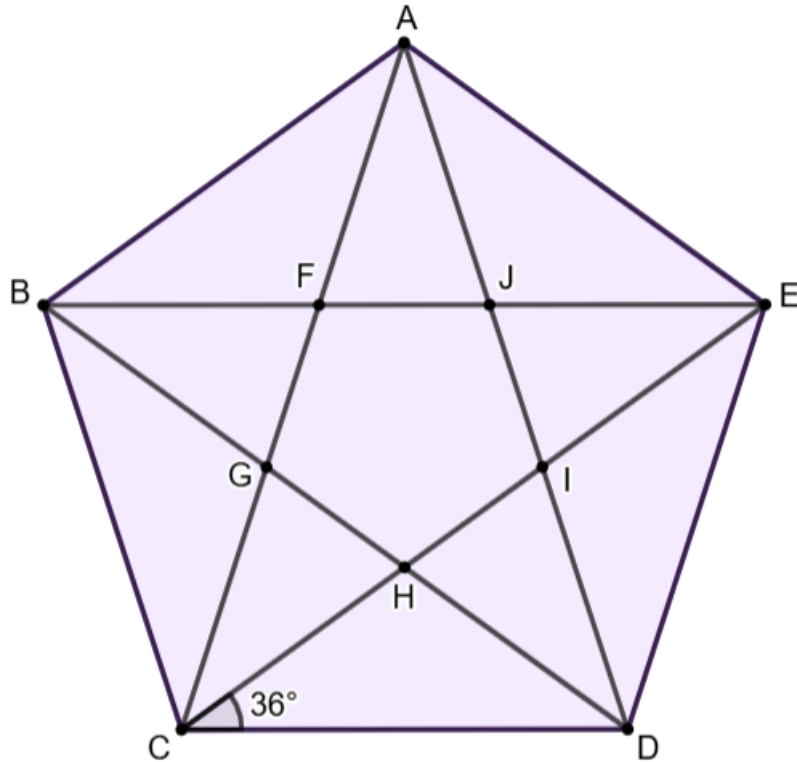
Namen:

Vraag 7 – HOEKEN

Bereken de gevraagde hoeken in de regelmatige vijfhoek (de zijden zijn even lang).

..... / 6

Noteer je berekening en de gebruikte eigenschap.



$|\hat{BEC}| =$

Eigenschap:

.....

$|\hat{ABE}| =$

Eigenschap:

.....

$|\hat{CDE}| =$

Eigenschap:

.....

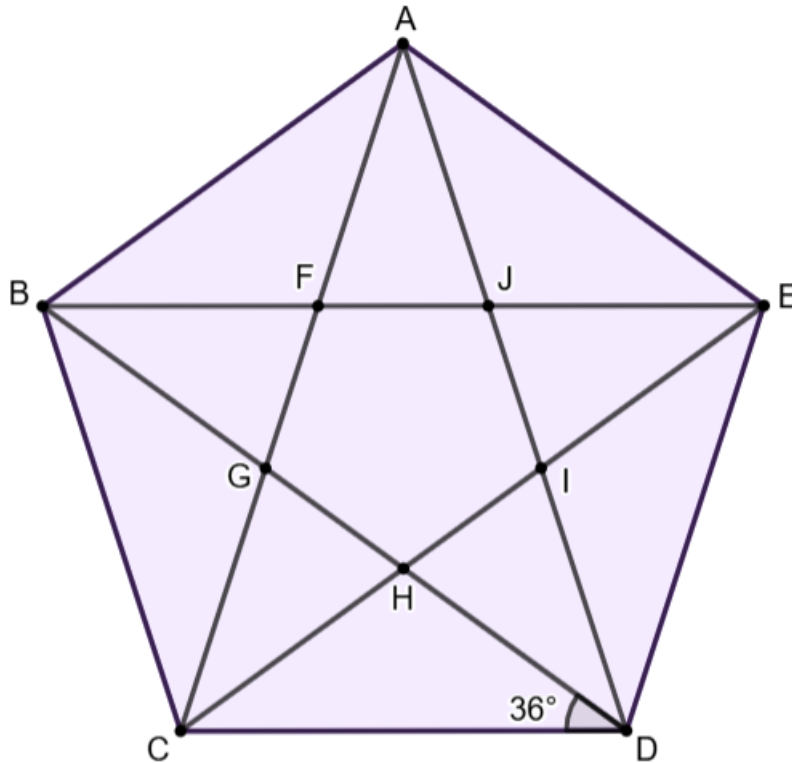
Namen:

Vraag 7 – HOEKEN

Bereken de gevraagde hoeken in de regelmatige vijfhoek (de zijden zijn even lang).

..... / 6

Noteer je berekening en de gebruikte eigenschap.



$|\widehat{DBE}| =$

Eigenschap:

$|\widehat{AEB}| =$

Eigenschap:

$|\widehat{BCD}| =$

Eigenschap:

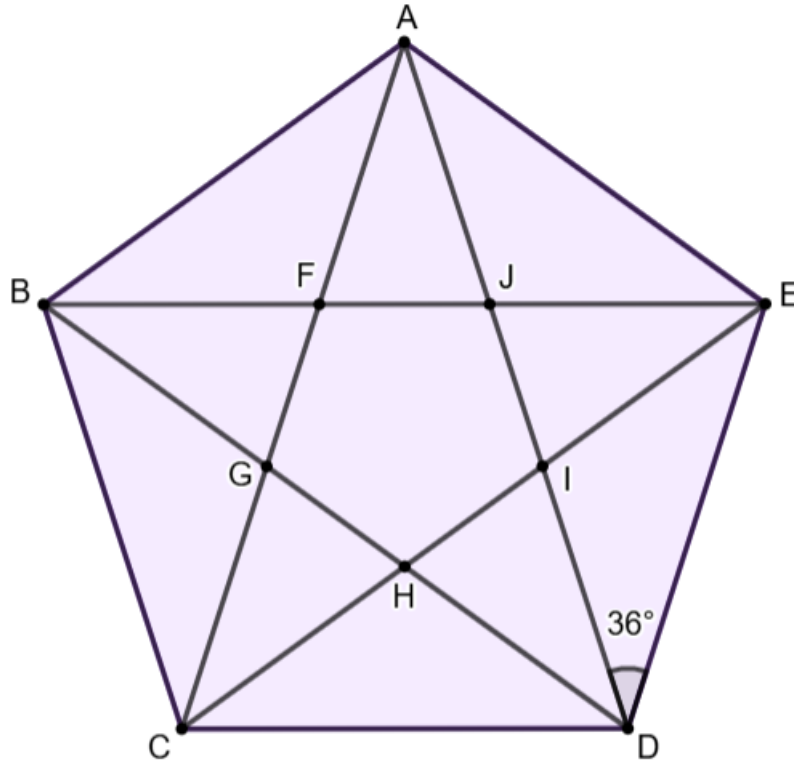
Namen:

Vraag 7 – HOEKEN

Bereken de gevraagde hoeken in de regelmatige vijfhoek (de zijden zijn even lang).

..... / 6

Noteer je berekening en de gebruikte eigenschap.



$|\hat{CAD}| =$

Eigenschap:
.....

$|\hat{ACB}| =$

Eigenschap:
.....

$|\hat{AED}| =$

Eigenschap:
.....

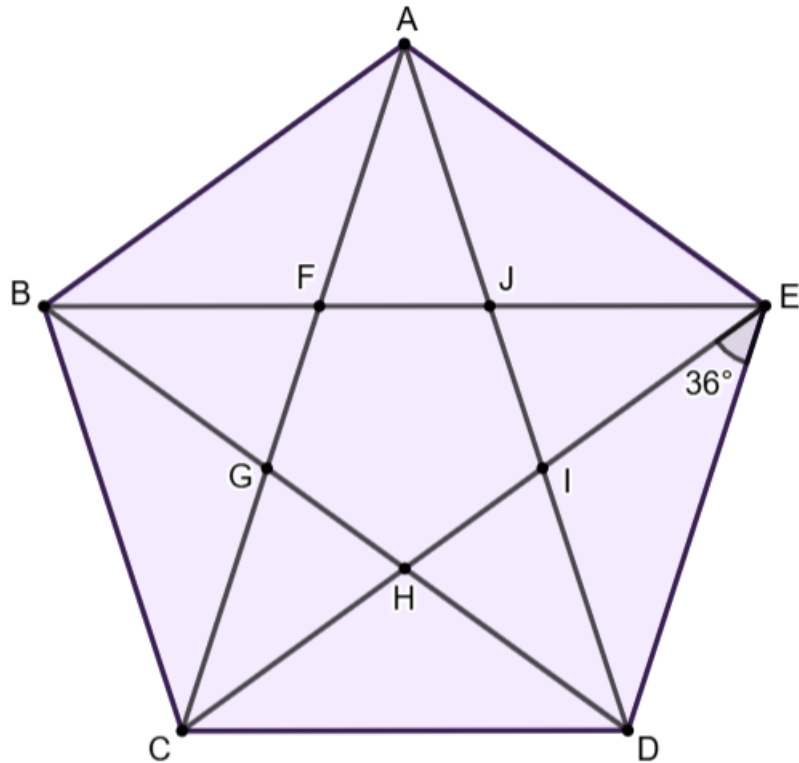
Namen:

Vraag 7 – HOEKEN

Bereken de gevraagde hoeken in de regelmatige vijfhoek (de zijden zijn even lang).

..... / 6

Noteer je berekening en de gebruikte eigenschap.



$|\hat{ACE}| =$

Eigenschap:
.....

$|\hat{BAC}| =$

Eigenschap:
.....

$|\hat{CDE}| =$

Eigenschap:
.....

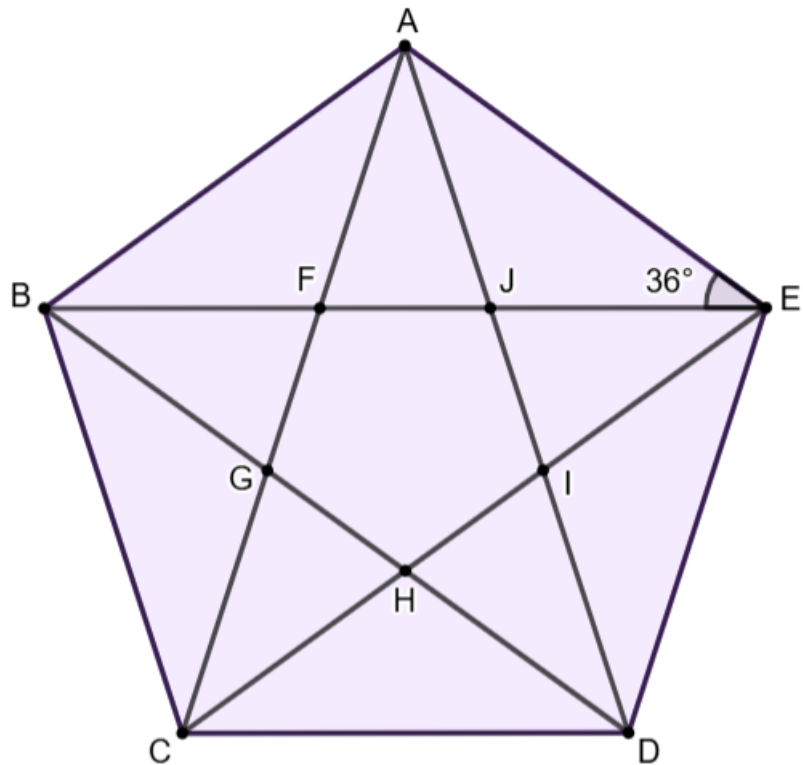
Namen:

Vraag 7 – HOEKEN

Bereken de gevraagde hoeken in de regelmatige vijfhoek (de zijden zijn even lang).

..... / 6

Noteer je berekening en de gebruikte eigenschap.



$|\widehat{DBE}| =$

Eigenschap:

.....

$|\widehat{BDC}| =$

Eigenschap:

.....

$|\widehat{BAE}| =$

Eigenschap:

.....

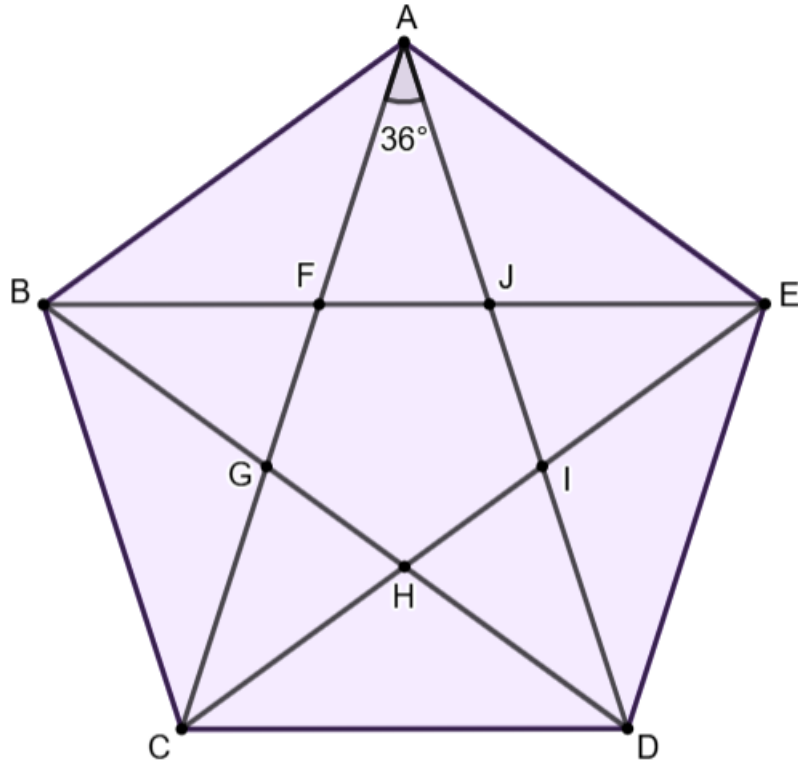
Namen:

Vraag 7 – HOEKEN

Bereken de gevraagde hoeken in de regelmatige vijfhoek (de zijden zijn even lang).

..... / 6

Noteer je berekening en de gebruikte eigenschap.



$|\hat{ACB}| =$

Eigenschap:

.....

$|\hat{ABC}| =$

Eigenschap:

.....

$|\hat{ACD}| =$

Eigenschap:

.....